

# **BORRACHEIRO**

## **(OPERÁRIO ESPECIALIZADO)**

Escreva seu nome e número de inscrição de forma legível nos locais indicados:

Nome do(a) Candidato(a)

Nº de inscrição

--	--

Este caderno de questões está assim constituído:

DISCIPLINAS	Nº QUESTÕES
Português	15
Matemática	10
Legislação e Conhecimentos Específicos	15
<b>Total de questões</b>	<b>40</b>

### INSTRUÇÕES:

- Confira devidamente o material (CARTÃO DE RESPOSTAS e CADERNO DE QUESTÕES); se houver falha, solicite a substituição ao fiscal.
- Após conferir seus dados no cartão de respostas (NOME, Nº da INSCRIÇÃO e CARGO), assine no local indicado.
- O CARTÃO DE RESPOSTAS é o único documento de correção, devendo ser preenchido com bastante atenção, à caneta esferográfica, azul ou preta, ponta grossa, marcando uma única alternativa em cada questão.
- Verifique no cartão de respostas as instruções para preenchimento. Não rasure, não amasse nem dobre o CARTÃO DE RESPOSTAS; evite usar borracha. É vedada a substituição do CARTÃO DE RESPOSTAS decorrente de erro cometido por candidato.
- Se o CARTÃO DE RESPOSTAS contiver maior número de alternativas e/ou de questões, preencha apenas as correspondentes à sua prova; as demais ficam em branco.
- Durante a realização da prova, não é permitida a comunicação entre candidatos nem a utilização de máquina calculadora e/ou similares, livros, anotações, réguas de cálculo, impressos ou qualquer outro material de consulta.
- O tempo de duração da prova objetiva será de **até 3 horas**, incluído o tempo para preenchimento do cartão de respostas.
- Ao final dos trabalhos, **DEVOLVA** ao Fiscal da sala, juntamente com o CARTÃO DE RESPOSTAS devidamente preenchido e assinado, o CADERNO DE QUESTÕES, tendo em vista a obrigatoriedade de arquivo no Município.
- A parte destacável no final desta capa, que serve para copiar as suas respostas, somente poderá ser destacada no ato da entrega do material na mesa do fiscal.
- Os três últimos candidatos de cada sala de prova deverão permanecer no recinto, a fim de acompanhar os fiscais até a coordenação para o lacre dos envelopes, quando, então, poderão retirar-se do local, simultaneamente, após concluído.
- Direitos autorais reservados à Objetiva Concursos Ltda. Proibida a reprodução, ainda que parcial, sem autorização prévia.



.....  
(dobre e destaque esta parte para copiar suas respostas)

01	<input type="checkbox"/>	02	<input type="checkbox"/>	03	<input type="checkbox"/>	04	<input type="checkbox"/>	05	<input type="checkbox"/>	06	<input type="checkbox"/>	07	<input type="checkbox"/>	08	<input type="checkbox"/>	09	<input type="checkbox"/>	10	<input type="checkbox"/>
11	<input type="checkbox"/>	12	<input type="checkbox"/>	13	<input type="checkbox"/>	14	<input type="checkbox"/>	15	<input type="checkbox"/>	16	<input type="checkbox"/>	17	<input type="checkbox"/>	18	<input type="checkbox"/>	19	<input type="checkbox"/>	20	<input type="checkbox"/>
21	<input type="checkbox"/>	22	<input type="checkbox"/>	23	<input type="checkbox"/>	24	<input type="checkbox"/>	25	<input type="checkbox"/>	26	<input type="checkbox"/>	27	<input type="checkbox"/>	28	<input type="checkbox"/>	29	<input type="checkbox"/>	30	<input type="checkbox"/>
31	<input type="checkbox"/>	32	<input type="checkbox"/>	33	<input type="checkbox"/>	34	<input type="checkbox"/>	35	<input type="checkbox"/>	36	<input type="checkbox"/>	37	<input type="checkbox"/>	38	<input type="checkbox"/>	39	<input type="checkbox"/>	40	<input type="checkbox"/>

## PORTUGUÊS

“Prisioneiro gato” sai da cadeia e inicia carreira de modelo

Jeremy Meeks, um homem de 32 anos que virou celebridade nas redes sociais e ficou conhecido como “prisioneiro gato”, saiu da cadeia na última terça-feira e irá iniciar carreira como modelo. Ele foi detido em junho de 2014 em Stockton, na Califórnia, e tornou-se uma celebridade instantânea depois que sua foto foi publicada na página do Facebook da polícia local.

Após a postagem, a foto recebeu milhares de comentários, todos elogiando a beleza de Jeremy. “Aparentemente, é crime ser tão bonito”, dizia uma das mensagens. “Podemos ser algemados juntos?”, perguntou outra. Depois de todo o sucesso, Meeks conseguiu um contrato com a agência de modelos White Cross Management.

<http://veja.abril.com.br/noticia/mundo/> - adaptado.

**1)** De acordo com o texto, analisar a sentença abaixo:

*O gato de estimação de Jeremy ficou preso junto com ele (1ª parte). Jeremy era modelo antes de ser preso e foi descoberto pelas fãs (2ª parte). Jeremy conseguiu um contrato de modelo após a polícia postar no Facebook a foto dele, que fez sucesso imediatamente (3ª parte).*

A sentença está:

- a) Totalmente correta.
- b) Correta somente em suas 1ª e 2ª partes.
- c) Correta somente em suas 2ª e 3ª partes.
- d) Correta somente em sua 3ª parte.
- e) Totalmente incorreta.

**2)** Em relação às aspas utilizadas em “prisioneiro gato”, presente no primeiro parágrafo do texto, analisar os itens abaixo:

- I - Estão sendo empregadas para destacar a fala de quem fez a reportagem.
- II - O seu uso não influencia o sentido contextual em que estão inseridas.
- III - Estão indicando a fala de uma das admiradoras de Jeremy.

Está(ão) CORRETO(S):

- a) Somente os itens I e II.
- b) Somente os itens II e III.
- c) Somente o item I.
- d) Somente o item II.
- e) Todos os itens.

**3)** O termo sublinhado em “Se explodíssemos a lua, os fragmentos lunares acabariam se fundindo novamente.” significa:

- a) Juntar.
- b) Melecar.
- c) Sumir.
- d) Cair.
- e) Explodir.

**4)** Em relação à ortografia, assinalar a alternativa que preenche a lacuna abaixo CORRETAMENTE:

*Nunca senti uma dor tão \_\_\_\_\_.*

- a) atróz
- b) atrás
- c) autrós
- d) atroz
- e) atrós

**5)** Em relação à divisão silábica, assinalar a alternativa CORRETA:

- a) Agen-te.
- b) Mer-ca-do.
- c) U-ni-ão.
- d) Di-sci-pli-na.
- e) Ria-ch-o.

**6)** Quanto à classificação silábica de palavras, assinalar a alternativa cuja palavra é uma trissílaba:

- a) Analfabeto.
- b) Possível.
- c) Talvez.
- d) Além.
- e) Passos.

7) Sobre os usos dos sinais de pontuação, numerar a 2ª coluna de acordo com a 1ª e, após, assinalar a alternativa que apresenta a sequência CORRETA:

- (1) Afirmação.
- (2) Pergunta.
- (3) Admiração, espanto.
- (4) Suspensão, dúvida.

- ( ) — Você vai... (reticências)
- ( ) — Você vai? (ponto de interrogação)
- ( ) — Você vai. (ponto-final)
- ( ) — Você vai! (ponto de exclamação)

- a) 1 - 3 - 2 - 4.
- b) 2 - 3 - 4 - 1.
- c) 4 - 2 - 1 - 3.
- d) 3 - 1 - 4 - 2.
- e) 4 - 2 - 3 - 1.

8) Em “O efeito do preto e branco ressaltou as sombras.”, o termo sublinhado encontra seu sinônimo em:

- a) Encostar.
- b) Aliviar.
- c) Carecer.
- d) Duplicar.
- e) Destacar.

9) Assinalar a alternativa que apresenta um adjetivo:

- a) Coragem.
- b) Fiel.
- c) Ônibus.
- d) Morango.
- e) Pasta.

10) Analisar os itens abaixo:

- I - O aumentativo de “sala” é “salão”.
- II - O diminutivo de “vinho” é “vinílico”.
- III - O aumentativo de “bicho” é “bichano”.

Está(ão) CORRETO(S):

- a) Somente os itens I e II.
- b) Somente os itens II e III.
- c) Somente o item I.
- d) Somente o item II.
- e) Todos os itens.

11) A palavra “olhos” está no:

- a) Plural.
- b) Singular.
- c) Aumentativo.
- d) Diminutivo.
- e) Indefinido.

12) Em relação ao plural da palavra “fuzil”, assinalar a alternativa CORRETA:

- a) Fuzis.
- b) Fusíveis.
- c) Fuzils.
- d) Fuzius.
- e) Fuzeis.

13) Em relação à frase “Personagens literários ganham vida e fazem receptivo em pontos turísticos.”, é CORRETO afirmar que a palavra “personagem” é :

- a) Somente masculina.
- b) Neutra.
- c) Comum de dois gêneros.
- d) Somente feminina.
- e) Um adjetivo.

14) Ao se passar para o plural os termos sublinhados do trecho “Antigamente não havia animal feroz perto de crianças no zoológico.”, quantas outras palavras obrigatoriamente devem ser flexionadas a fim de se manter CORRETA a concordância?

- a) Uma.
- b) Duas.
- c) Três.
- d) Quatro.
- e) Nenhuma.

15) Assinalar a alternativa que NÃO apresenta gíria:

- a) Aquela baleia tem inveja de mim.
- b) Ele deu duro para chegar lá.
- c) Assim que terminar a janta, saio de fininho!
- d) Só me caso novamente se o interessado andar na linha.
- e) Ah, que bom que você dobrou as minhas roupas!

## MATEMÁTICA

16) Sabe-se que em determinado concurso público a quantidade de inscritos para o cargo de Borracheiro foi um número primo. Com base nisso, assinalar a alternativa que apresenta a possível quantidade de inscritos nesse concurso público para o cargo de Borracheiro:

- a) 33
- b) 45
- c) 77
- d) 107
- e) 124

**17)** Tiago recebe um salário mensal de R\$ 880,00. Sabe-se que dessa quantia 6% é descontado referente ao vale-transporte. Com base nisso, assinalar a alternativa que corresponde ao valor de vale-transporte que é descontado de Tiago:

- a) R\$ 48,25
- b) R\$ 52,80
- c) R\$ 58,90
- d) R\$ 62,50
- e) R\$ 67,25

**18)** Sabe-se que dois Borracheiros concertam um pneu em 20 minutos. Considerando-se a mesma proporção que a anterior, quantos minutos seriam necessários para cinco Borracheiros concertarem um pneu?

- a) 8
- b) 12
- c) 40
- d) 52
- e) 60

**19)** Determinada fatura de cartão de crédito no valor de R\$ 345,00 foi paga 1 dia após seu vencimento. Sabendo-se que foram cobrados juros simples de 5% ao dia, o valor dos juros cobrados foi:

- a) R\$ 17,00
- b) R\$ 17,25
- c) R\$ 17,50
- d) R\$ 17,75
- e) R\$ 18,00

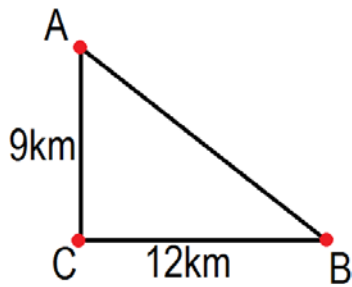
**20)** Sabendo-se que determinado candidato acertou, em uma prova de concurso público, 3 questões na disciplina de matemática, 5 na de português, 7 na de legislação e 5 na de conhecimentos específicos, é CORRETO afirmar que a média de acertos desse candidato, em cada disciplina, foi de:

- a) 3 questões.
- b) 4 questões.
- c) 5 questões.
- d) 6 questões.
- e) 7 questões.

**21)** Sabe-se que a idade de Camila é o resultado do máximo divisor comum da idade de seus pais, que seu pai tem 48 anos e que sua mãe tem 36. Assinalar a alternativa que apresenta a idade de Camila:

- a) 8 anos.
- b) 10 anos.
- c) 12 anos.
- d) 14 anos.
- e) 16 anos.

22) Considerando-se a imagem abaixo, assinalar a alternativa que apresenta a menor distância do ponto A ao ponto B:



- a) 12km
- b) 16km
- c) 20km
- d) 18km
- e) 15km

23) Determinado Borracheiro iniciou a troca de um pneu às 16h25min e finalizou após 96 minutos. A que horas esse Borracheiro finalizou a troca do pneu?

- a) 17h41min
- b) 17h46min
- c) 17h51min
- d) 17h56min
- e) 18h1min




24) Sabendo-se que determinado caminhão possui capacidade máxima de carga de 4,5 toneladas, é CORRETO afirmar que a capacidade máxima de carga desse caminhão é equivalente a:

- a) 450kg
- b) 450.000g
- c) 4.500kg
- d) 4.500g
- e) 45.000kg

25) Analisar a sequência lógica abaixo:



Seguindo-se o mesmo critério de formação, assinalar a alternativa que apresenta a 34ª figura dessa sequência:

- a) 
- b) 
- c) 
- d) 
- e) 

## LEGISLAÇÃO E CONHECIMENTOS ESPECÍFICOS

Atenção! Em todas as questões de legislação desta prova, serão consideradas as leis e suas alterações até a data do início das inscrições deste concurso.

**26)** Em conformidade com a Lei Orgânica do Município, relativo ao meio ambiente, analisar os itens abaixo:

- I - Não será permitido o depósito de lixo ou emissão de esgotos próximos a fontes de água, rios ou a céu aberto.
- II - Todos têm direito ao meio ambiente saudável e ecologicamente equilibrado.
- III - O direito ao ambiente saudável não se estende ao ambiente de trabalho, ficando o Município, portanto, desobrigado de garantir e proteger o trabalhador contra condições nocivas.

Está(ão) CORRETO(S):

- a) Somente o item I.
- b) Somente o item II.
- c) Somente os itens I e II.
- d) Somente os itens I e III.
- e) Todos os itens.

**27)** De acordo com a Lei Complementar Municipal nº 18/11 - Regime Jurídico dos Servidores Públicos do Município, ao entrar em exercício, o servidor nomeado para o cargo de provimento efetivo ficará sujeito ao estágio probatório pelo período de 36 meses, durante o qual sua aptidão, capacidade e desempenho serão objeto de avaliação por comissão especial designada para esse fim com vistas a aquisição de estabilidade, observando-se, entre outros, os seguintes quesitos para efetivação:

- I - Inassiduidade.
- II - Indisciplina.
- III - Pontualidade.
- IV - Eficiência.
- V - Dedicção ao serviço.

Estão CORRETOS:

- a) Somente os itens I e II.
- b) Somente os itens I e III.
- c) Somente os itens II, III e IV.
- d) Somente os itens III, IV e V.
- e) Todos os itens.

**28)** Em relação ao pneu, analisar os itens abaixo:

- I - O pneu é considerado um item de segurança do veículo, por esse motivo, descuidos com a manutenção podem trazer riscos.
- II - Os pneus são os únicos pontos de contato entre veículo e a pista de rolamento.
- III - Pneus apropriados e em bom estado são importantíssimos para a segurança e para o desempenho do veículo.

Está(ão) CORRETO(S):

- a) Somente o item II.
- b) Somente os itens I e III.
- c) Somente os itens I e II.
- d) Somente os itens II e III.
- e) Todos os itens.

**29)** Considerando-se as partes de um pneu, o item indicado pelo nº 1 na imagem abaixo representa:



- a) Bolha.
- b) Banda de rodagem.
- c) Faixa lateral.
- d) Reforço do talão.
- e) Malha de aço.

**30)** Em relação à recapagem, marcar C para as afirmativas Certas, E para as Erradas e, após, assinalar a alternativa que apresenta a sequência CORRETA:

- ( ) O único processo utilizado para a recapagem é o processo a quente.
- ( ) É basicamente o processo de trocar a banda de rodagem (*tread*) usada por um novo.
- ( ) O processo a quente é feito utilizando um pneu pré-moldado que obtém uma banda de rodagem com desenho e um tipo de cola do lado oposto que faz a banda grudar no pneu a uma temperatura de 110°C.

- a) E - C - E.
- b) C - C - C.
- c) E - E - C.
- d) C - E - E.
- e) C - C - E.


31) A imagem abaixo apresenta um (a):



- a) Trava para o kit de montagem de pneu.
- b) Vedante para a montagem de pneu.
- c) Rodilho para aplicar remendo.
- d) Descolador manual para pneus.
- e) Assentador de talão.

32) Em relação aos tipos de martelo utilizados em trabalhos de borracharia, numerar a 2ª coluna de acordo com a 1ª e, após, assinalar a alternativa que apresenta a sequência CORRETA:

- (1) Martelo de borracha
- (2) Martelo tipo machado.
- (3) Martelo tipo cavadeira.



- ( )
  - ( )
  - ( )
- a) 1 - 2 - 3.
  - b) 1 - 3 - 2.
  - c) 2 - 3 - 1.
  - d) 3 - 2 - 1.
  - e) 3 - 1 - 2.

33) Em relação à calibragem de pneus, assinalar a alternativa CORRETA:

- a) Um pneu bem calibrado garante mais segurança na hora de dirigir e ajuda a reduzir o consumo de combustível.
- b) A calibragem errada compromete somente a segurança dos ocupantes do veículo, não tem relação alguma com o desempenho do automóvel.
- c) O recomendado é calibrar os pneus uma vez por ano.
- d) Deve-se sempre calibrar os pneus quentes, ou seja, depois de ter rodado no mínimo 15 quilômetros.
- e) A pressão dos pneus deve ser sempre a mesma, independentemente do tipo de pneu ou das recomendações do fabricante do veículo.

34) No que se refere à limpeza e organização do local de trabalho, analisar a sentença abaixo:

*Manter o local de trabalho limpo e organizado dificulta o dia a dia do trabalhador (1ª parte). Organizar as ferramentas colabora com a rapidez e a agilidade no processo de busca do material (2ª parte). Uma forma de manter as ferramentas em bom estado de conservação por mais tempo é guardá-las de forma correta, protegendo as lâminas, por exemplo (3ª parte).*

A sentença está:

- a) Totalmente correta.
- b) Correta somente em sua 1ª parte.
- c) Correta somente em sua 2ª parte.
- d) Correta somente em suas 2ª e 3ª partes.
- e) Totalmente incorreta.

35) Em relação à coleta seletiva de lixo, analisar os itens abaixo:

- I - É um processo que consiste na separação e no recolhimento dos resíduos descartados.
- II - Nesse processo, os materiais que podem ser reciclados são separados do lixo orgânico.
- III - O lixo orgânico pode ser usado para a fabricação de adubos orgânicos.

Está(ão) CORRETO(S):

- a) Somente o item II.
- b) Somente os itens I e III.
- c) Somente os itens I e II.
- d) Somente os itens II e III.
- e) Todos os itens.

36) Considerando-se as cores definidas para as lixeiras, assinalar a alternativa que apresenta o tipo de lixo que deve ser depositado na lixeira de cor marrom:

- a) Metal.
- b) Plástico.
- c) Vidro.
- d) Orgânico.
- e) Hospitalar.

37) Em relação à coleta seletiva de lixo, assinalar a alternativa CORRETA:

- a) A importância para a sociedade é mínima.
- b) Traz benefícios para o meio ambiente, uma vez que ajuda a diminuir a poluição dos solos e rios.
- c) Tem o intuito de desenvolver nas pessoas a ideia de aumento de consumo.
- d) Tem o objetivo de retardar o desenvolvimento sustentável do planeta.
- e) Nenhuma das alternativas acima está correta.

**38)** Estão entre as principais atividades da segurança do trabalho:

- I - Prevenção de acidentes.
- II - Promoção da saúde.
- III - Prevenção de incêndios.

Está(ão) CORRETO(S):

- a) Somente o item II.
- b) Somente os itens II e III.
- c) Somente os itens I e II.
- d) Somente os itens I e III.
- e) Todos os itens.

**39)** No que se refere à segurança do trabalho, analisar os itens abaixo:

- I - É uma ciência que atua na prevenção dos acidentes do trabalho decorrentes dos fatores de riscos ocupacionais.
- II - Nos locais de trabalho existem inúmeras situações de risco passíveis de provocar acidentes do trabalho.
- III - A análise de fatores de risco em todas as tarefas e nas operações do processo é fundamental para a prevenção.

Está(ão) CORRETO(S):

- a) Somente o item II.
- b) Somente os itens II e III.
- c) Somente os itens I e II.
- d) Somente os itens I e III.
- e) Todos os itens.

**40)** Entre os fatores de risco que podem provocar acidentes do trabalhado, pode-se destacar, EXCETO:

- a) Utilização de ferramentas manuais defeituosas.
- b) Manuseio de produtos perigosos.
- c) Manuseio de eletricidade sem as devidas precauções.
- d) Armazenamento e transporte correto de materiais.
- e) Instalações precárias.